

INSTITUT PUIG CASTELLAR

Matèria: Ciències Socials

Professors: Alfonso Jiménez/ Cristian Folch

Grup: 3r ESO

Alumne/a:

Curs : 2019/2020

DOSSIER D'ACTIVITATS GEOGRAFIA I HISTÒRIA. 3er d'ESO.



GEOGRAFIA

UNITAT 1. ESTATS I DIVISIÓ POLÍTICA

1. Relaciona cada concepte amb la seva definició

A. NACIÓ

... Extensió de territori a la qual confereixen una certa unitat les relacions de veïnatge entre els llocs que la formen, el record d'antigues demarcacions històriques (comtats, bisbats, etc.), les condicions físiques (relleu, hidrografia, etc.) i les relacions de mercat (existència de poblacions on es desplacen els habitants d'un territori per comprar i vendre).

B. ESTAT

... Conjunt de persones i d'institucions que controlen, organitzen i satisfan una part de les necessitats comunes de tots els habitants d'un territori clarament delimitat per fronteres.

C. COMARCA

... Grup de persones que ocupa un espai geogràfic delimitat, sigui gran o petit, que té un sentiment de pertinença estable a una comunitat, i es distingeix dels altres grups veïns d'una manera prou clara a través de diversos senyals d'identitat.

D. MUNICIPI

... La primera cèl·lula territorial integrada per la població que hi viu i per una organització administrativa que li presta serveis.

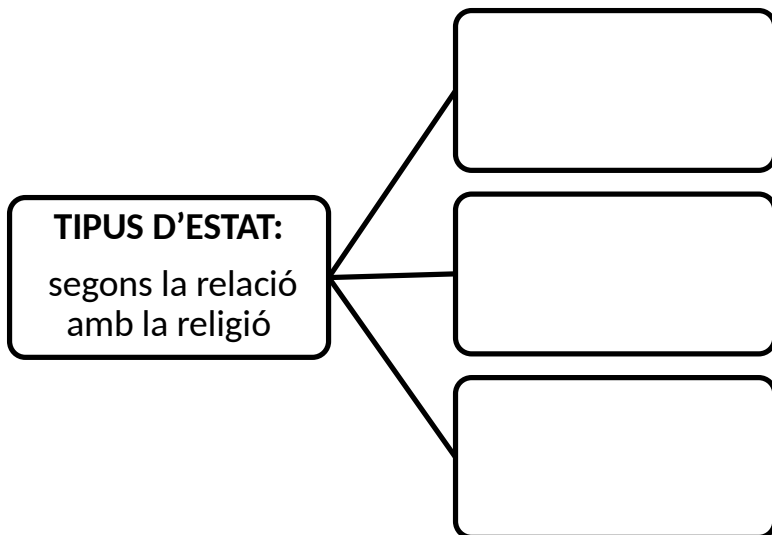
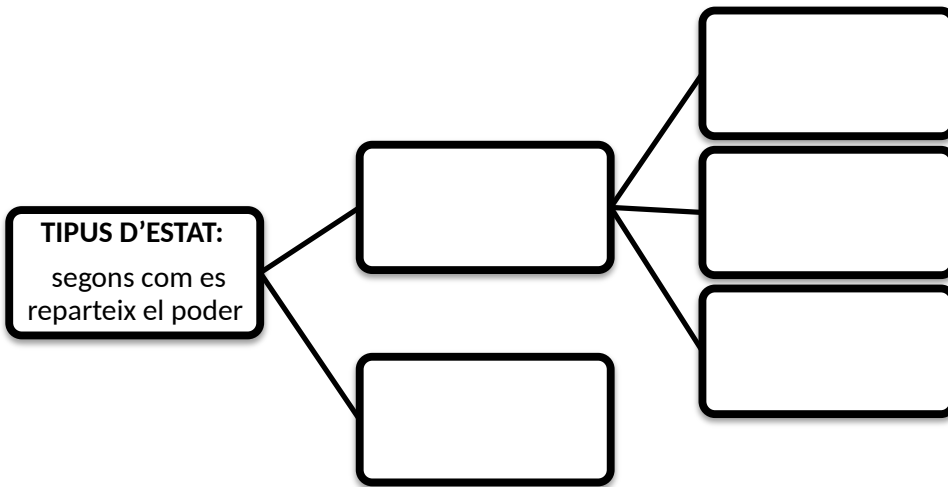
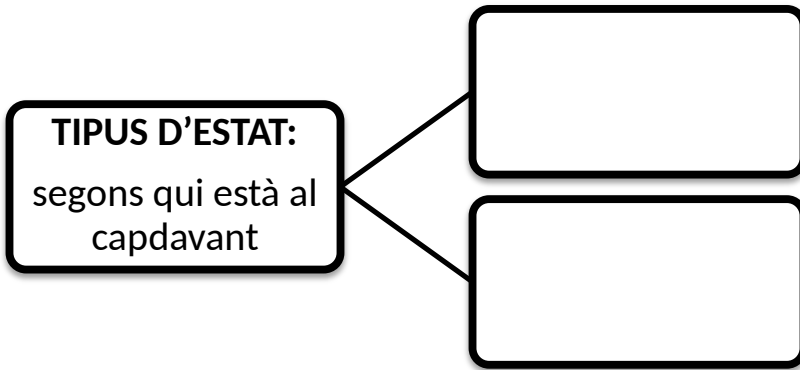
2. Acoloreix el mapamundi, indicant els continents i oceans. Després contesta les preguntes:



Quants continents hi ha al món?

Quants països hi ha actualment al món?

3. Completa els esquemes sobre els tipus d'estats que hi ha al món:



4. Completa els buits amb la paraula correcta:

constitució - dictadura - monarquies - sufragi universal - laics
 confessionals - divisió de poders - executiu - judicial - legislatiu - federal

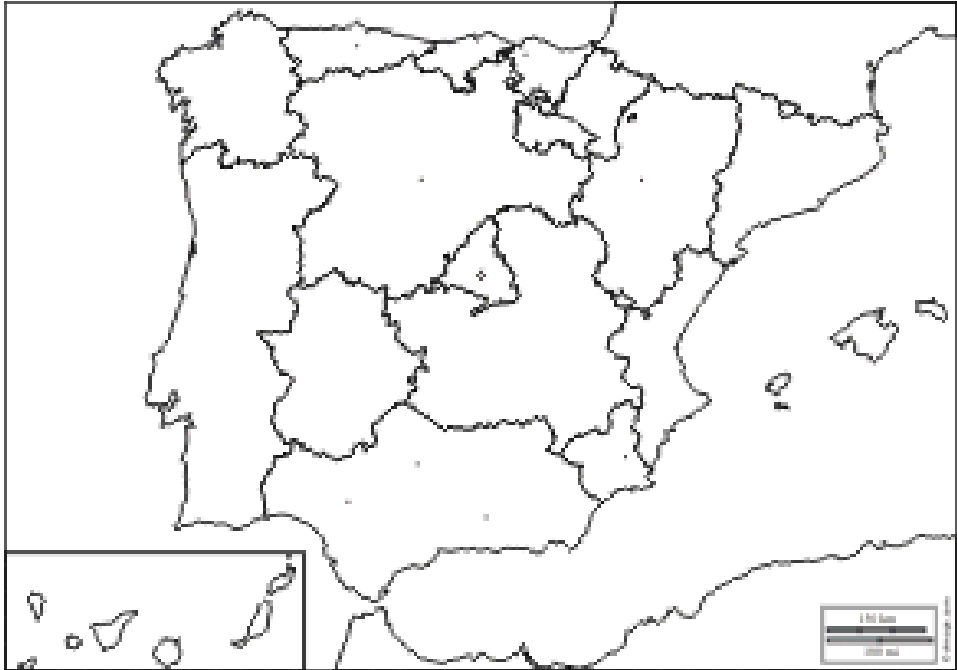
- El govern té el poder _____.
- Els estats en què el cap de l'estat és un rei són _____.
- En una democràcia es dóna la _____.
- Una _____ es presenta quan el poder resideix en grups minoritaris.
- El Parlament té el poder _____.
- L'estat _____ és el que està constituït per diversos estats sota una mateixa constitució.
- Els estats _____ són aquells en què hi ha la separació entre l'església i l'estat.
- _____ vol dir que tots els ciutadans majors d'edat poden votar per elegir els seus representants.
- Els estats en què hi ha una religió oficial s'anomenen _____.
- La _____ és la llei suprema de compliment obligat per a tots els ciutadans.
- Els jutges formen el poder _____.

5. Completa el quadre amb les paraules adequades:

Controlar el poder executiu -jutges- aplicar les lleis- Senat- tribunals de justícia-
 ministeris- diputats-ministres i president del govern- vetllar pel compliment de les lleis-
 Congrés dels Diputats

Poder	Funcions	Òrgans	Responsables
LEGISLATIU			
EXECUTIU			
JUDICIAL			

6. Situa les Comunitats Autònomes de l'Estat espanyol i pinta-les al mapa:



7. **Escriu el nom de les comarques catalanes i acoloreix-les al mapa:**



UNITATS 2-3-4-5. ELS SECTORS ECONÒMICS: PRIMARI, SECUNDARI I Terciari.

8. **Classifica els següents conceptes segons el sector econòmic a què pertanyen.**

Agricultura - mineria - educació - serveis financers - fonts d'energia - indústria - fàbrica - explotació forestal - comerç interior - comerç exterior - pesca d'altura - infraestructura de transport - turisme.

SECTOR PRIMARI	SECTOR SECUNDARI	SECTOR Terciari

9. Marca en el quadre següent a quin sector correspon cada activitat

Activitat	Sector primari	Sector secundari	Sector terciari
Agricultura			
Indústria			
Turisme			
Bancs			
Pesca			
Mineria			
Funcionaris			
Construcció			
Transports			
Advocats			

10. Observa les següents imatges i omple el quadre amb els elements del paisatge agrari.

Imatge 1



Imatge 2



	Imatge 1	Imatge 2
Grandària		
Límits de les parcel·les		
Manera d'obtenir l'aigua		
Varietat d'espècies		

11. Classifica els següents tipus d'energia segons siguin renovables o no renovables:

Carbó - maremotriu - solar - petroli - geotèrmica - eòlica - hidràulica - urani (nuclear) - biomassa - gas natural

Renovables	No renovables

12. Posa un exemple de cada categoria del transports:

MITJÀ DE TRANSPORT TERRESTRE	
MITJÀ DE TRANSPORT MARÍTIM	
INFRAESTRUCTURA DE TRANSPORT TERRESTRE (2 EXEMPLES)	

13. Completa l'esquema sobre el transport a Espanya i Catalunya:

	ESPANYA	CATALUNYA
AEROPORTS PRINCIPALS		
PORTS PRINCIPALS		
TIPUS DE XARXA DE TRANSPORT TERRESTRE		

HISTÒRIA

14. Omple el quadre sobre les etapes de la història:

Etapa	Comença...	Acaba....	Fet històric que posa fi a l'etapa
Prehistòria			
E. Antiga			
E. Mitjana			
E. Moderna			
E. Contemporània			

15. Explica quines parts del món coneixien els europeus a principis del segle XV.

16. Nomena 3 instruments de navegació que van fer més fàcils les expedicions marítimes del segle XV.

17. Explica breument qui són els següents personatges històrics:

<u>Personatge</u>	<u>Motiu</u>
Cristòfol Colom	
Juan Sebastián Elcano	
Francisco Pizarro	
Hernán Cortés	

18. Situa al següent mapa el territori que pertany a les civilitzacions precolombines:

Localización de las Civilizaciones Americanas



8

19. Nomena les restes més conegudes de les civilitzacions precolombines.

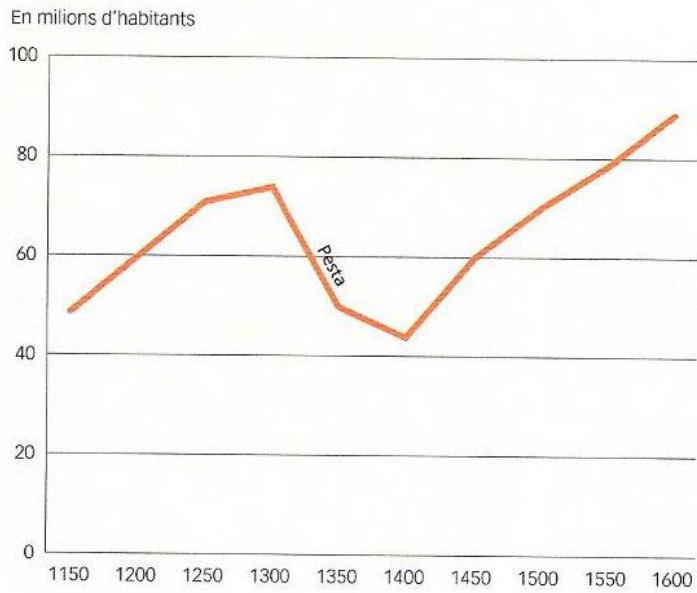
Imperi Inca	
Civilització Maia	
Imperi Asteca	

20. Data els següents fets històrics.

	Descobriment d'Amèrica.
	Tractat de Tordesillas
	Primera volta al món.

UNITAT 9: EL NAIXEMENT DEL MÓN MODERN

21. Comenta el gràfic



1. EVOLUCIÓ DE LA POBLACIÓ D'EUROPA ENTRE ELS SEGLES XII I XVI

22. Nomena els 4 grans regnes europeus dels segle XVI i digues quin rei o reina el regnava.

23. Completa el mapa de la península Ibèrica del segle XV:



24. Omple el quadre amb els fets més importants del regnat dels Reis Catòlics:

ANY	FETS
1478	
1492	
1504	
1512	

25. Digues quines eren les 3 característiques de l'Humanisme:

26. Relaciona cada personatge amb la definició correcta:

- | | |
|------------------------|--|
| A. Erasme de Rotterdam | |
| B. Johannes Guttemberg | ... Iniciador de la reforma protestant. |
| C. Nicolau Copèrnic | ... Pensador humanista, autor de l'Elogi de la follia. |
| D. Galileu Galilei | ... Inventor del telescopi. |
| E. Martí Luter | ... Inventor de la impremta de tipus mòbils. |
| | ... Científic que va elaborar la teoria heliocèntrica. |

27. Completa la informació sobre l'art del Renaixement (tens al primera lletra de cada paraula per ajudar-te):

El Renaixement va ser un moviment artístic que va néixer a l..... Es divideix en 2 etapes el Q..... i el C..... Intenta recuperar les característiques de l'art clàssic (antigues Grècia i Roma). En arquitectura, Brunelleschi va crear un nou element arquitectònic: la c..... En pintura, els artistes dominen l'espai i pinten els quadres amb la tècnica de la p..... (utilitzant la forma del triangle). En escultura es feien moltes escultures n..... perquè es buscava ser fidel a l'anatomia humana, i els principals materials utilitzats eren el m..... i el b.....

28. Completa el quadre sobre els artistes del Renaixement:

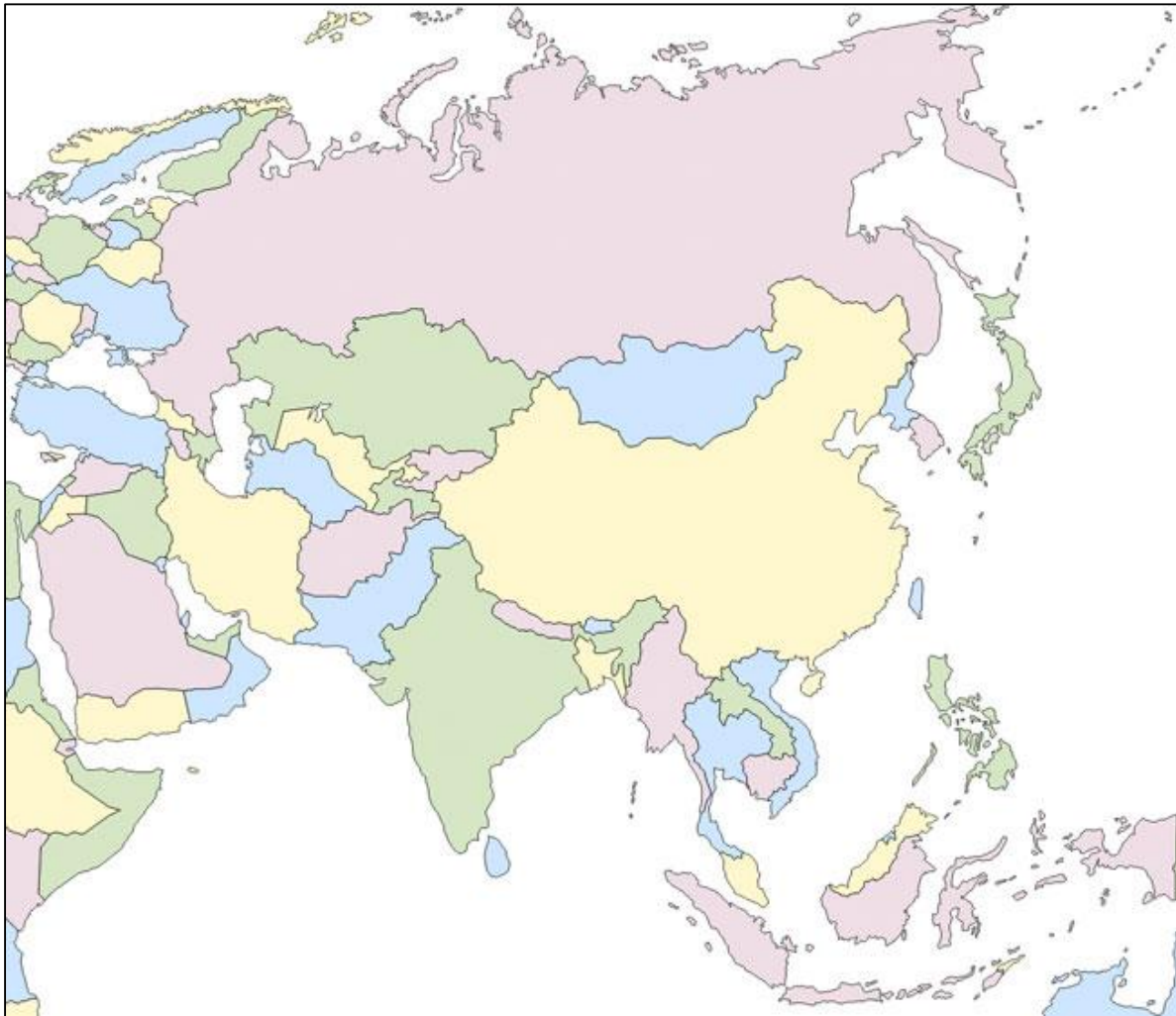
Pintor del Quattrocento i quadre més famós.	
Pintors del Cinquecento i una obra	
Escultor del Quattrocento i escultura	
Escultor del Cinquecento i escultura	
Pintor renaixentista espanyol i una obra coneguda.	

MAPES POLÍTICS:

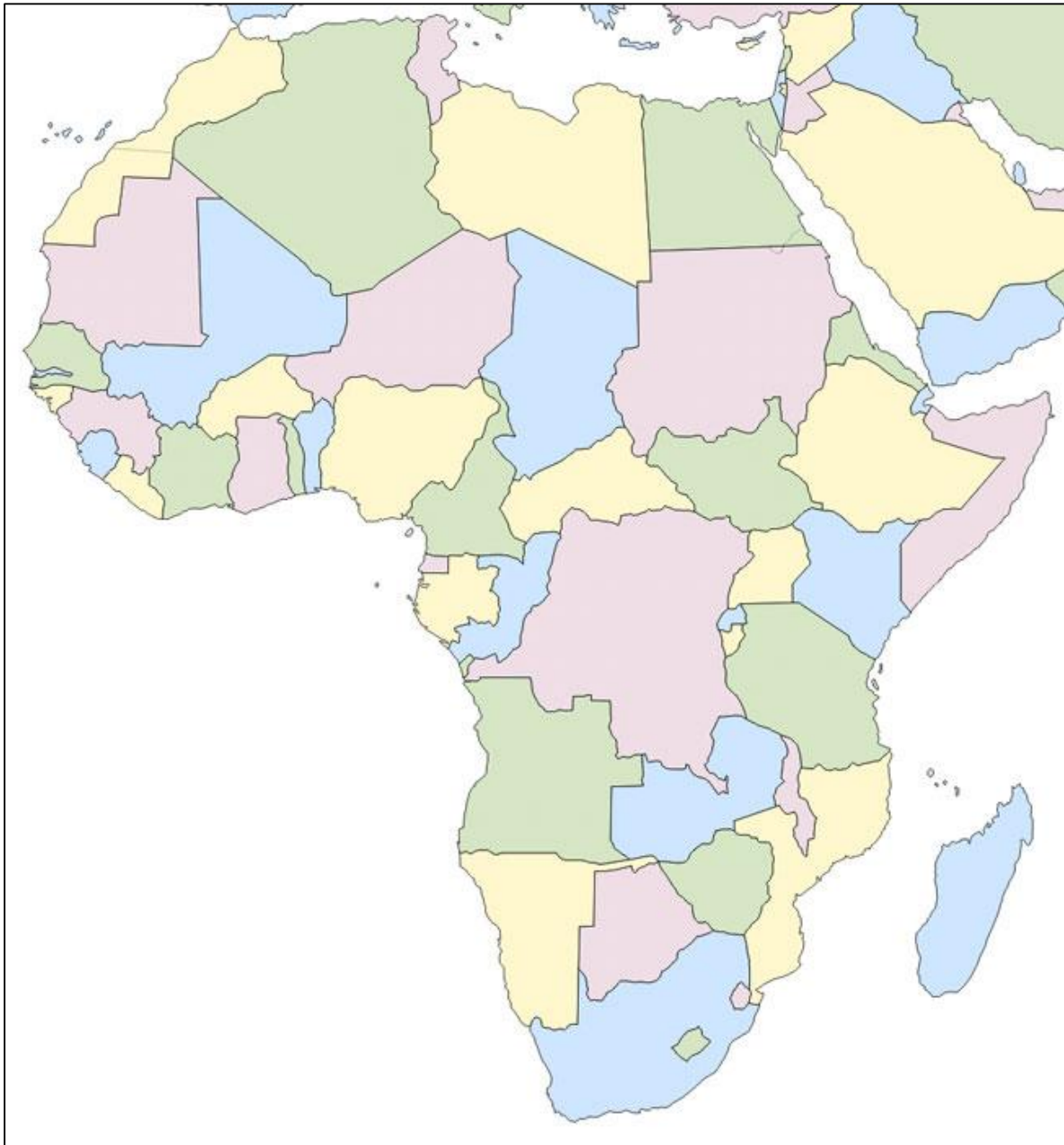
AMÈRICA



ÀSIA



ÀFRICA



EUROPA

